














Madhya Pradesh State Biodiversity Quiz 2020
District Level - II [Multimedia]

Seq	Question	Picture	Option A	Option B	Option C	Option D	Ans
1	चित्र को पहचानिए Identify the Picture		Kodo Millet कोदों धान्य	Sorghum ज्वार	Linseed अलसी	Foxtail Millet कंगनी	D
2	चित्र को पहचानिए Identify the Picture		Species Variation प्रजातीय विविधता	Ecological Variation पारिस्थितिक विविधता	Genetic Variation आनुवांशिक विविधता	All of these इनमे से सभी	C
3	चित्र को पहचानिए Identify the Picture		Pigeon Pea अरहर	Soyabean सोयाबीन	Chickpea चना	Kidney Bean राजमा	B




Seq	Question	Picture	Option A	Option B	Option C	Option D	Ans
4	चित्र को पहचानिए Identify the Picture		Ipomoea आईपोमिया	Eichornia इकोर्निया	Firebush फायरबुश	Lantana लैंटाना	D
5	चित्र को पहचानिए Identify the Picture		Indian Jezebel Butterfly इंडियन जेज़बेल तितली	Blue Pancy Butterfly ब्लू पैन्सी तितली	Krishna Peacock Butterfly कृष्ण पीकोक तितली	Painted Lady Butterfly पेंटेड लेडी तितली	B
6	चित्र को पहचानिए Identify the Picture		Grey Sparrow ग्रे स्पैरो	Indian Cuckoo इंडियन कुकू	Greater Coucal ग्रेटर कोकल	Asian Female Koel एशियन फीमेल कोयल	D




Seq	Question	Picture	Option A	Option B	Option C	Option D	Ans
7	चित्र को पहचानिए Identify the Picture		Wild Buffalo जंगली भैंसा	Blue bull नील गाय	Gaur गौर	Gayal मिथुन	C
8	चित्र को पहचानिए Identify the Picture		Box Turtle बॉक्स टर्टल	Indian Flap Shell Turtle इंडियन फ्लैप शैल टर्टल	Indian Roofed Turtle इंडियन रूफड टर्टल	Red-crowned Roofed Turtle रेड-क्राउंड रूफड टर्टल	B
9	चित्र को पहचानिए Identify the Picture		Indian Palm Squirrel इंडियन पाम स्कुइर्रल	Tamias तमियास	Malabar Giant Squirrel मालाबार जायंट स्कुइर्रल	Marmot मर्मोट	C

Seq	Question	Picture	Option A	Option B	Option C	Option D	Ans
10	चित्र को पहचानिए Identify the Picture		Smooth Coated Otter स्मूथ कोटेड औटर	Giant Otter जायंट औटर	African clawless Otter अफ्रीकन क्लॉलेस औटर	Marine Otter मरीन औटर	A
11	विडियो देखकर पहचानिए Identify by watching video		Streaked Weaver Bird स्ट्रीकड वीवर बर्ड	Village Weaver Bird विलेज वीवर बर्ड	Common Tailor Bird कॉमन टेलर बर्ड	Baya Weaver Bird बया वीवर बर्ड	D
12	विडियो देखकर पहचानिए Identify by watching video		Asian Giant Hornet एशियन जायंट होर्नेट	Hornet होर्नेट	Bald-Faced Hornet बाल्ड फ़ेस होर्नेट	Cicada सिकाडा	D




Seq	Question	Picture	Option A	Option B	Option C	Option D	Ans
13	विडियो देखकर पहचानिए Identify by watching video		Mahasheer महाशीर	Rohu रोहू	Catla Catla कतला कतला	Mangur मांगुर	A
14	विडियो देखकर पहचानिए Identify by watching video		Greater Adjutant ग्रेटर एँडजूटेंट	Black necked Stork ब्लैक नेकड स्टोर्क	Painted stork पैन्टेड स्टोर्क	Asian Openbill stork एशियन ओपेनबिल स्टोर्क	C
15	विडियो देखकर पहचानिए Identify by watching video		Amla आंवला	Mahua महुआ	Ber बेर	Achar अचार	B
16	विडियो देखकर पहचानिए Identify by watching video		Egyptian Vulture इजीप्शियन वल्चर	Red Headed Vulture रेड हेडेड वल्चर	Griffon Vulture ग्रिफान वल्चर	White Rumped Vulture व्हाइट रम्पड वल्चर	D




Seq	Question	Picture	Option A	Option B	Option C	Option D	Ans
17	चित्र में दिखाई दे रहे व्यक्तित्व को पहचानिये। Identify the personality shown in the picture ?		Daripalli Ramaiah दारिपल्ली रमैया	Jadav Peyang जादव पयांग	Tarun Bharat तरुण भारत	Rajendra Singh राजेंद्र सिंह	D
18	चित्र में दिखाई दे रहे व्यक्तित्व को पहचानिये। Identify the personality shown in the picture?		Steve Irwin स्टीव इरविन	Mark O' Shea मार्क ओशिया	Bear Grylls बेयर ग्रील	Austin Stevens ऑस्टिन स्टीवन्स	D
19	चित्र में दिखाई दे रहे व्यक्तित्व को पहचानिये। Identify the personality shown in the picture ?		Madhav Dhananjaya Gadgil माधव धनञ्जय गाडगिल	Sundarlal Bahuguna सुन्दर लाल बहुगुणा	Krishnaswamy Kasturiranjana कृष्णास्वामी कस्तुरीरंजन	Valmik Thapar वाल्मीक थापर	A






Seq	Question	Picture	Option A	Option B	Option C	Option D	Ans
20	चित्र में दिखाई दे रहे व्यक्तित्व को पहचानिये। Identify the personality shown in the picture ?		Medha Patkar मेधा पाटकर	Vandana Shiva वंदना शिवा	Gaura Devi गौरा देवी	Teelu Rauteli तीलू रौतेली	C
21	चित्र में दिखाई दे रहे व्यक्तित्व को पहचानिये। Identify the personality shown in the picture ?		Bikram Grewal बिक्रम ग्रेवाल	Bittu Sahgal बिट्टू सहगल	Ranjit Barthakur रणजीत बरठाकुर	Chandi Prasad Bhatt चंडी प्रसाद भट्ट	B
22	चित्र में दिखाई दे रहे व्यक्तित्व को पहचानिये। Identify the personality shown in the picture ?		Sudha Murthy सुधा मूर्ति	Kamala Pujari कमला पुजारी	Sunita Narain सुनीता नारायण	Saalumarada Thimmakka सलुमर्दा थिमक्का	D


Seq	Question	Picture	Option A	Option B	Option C	Option D	Ans
23	चित्र मे दर्शाई घटनायें को पहचाने। Identify the Event shown in the picture?		Northern California Wildfire उत्तरी कैलिफोर्निया के जंगलों में आग	Southern California Fire दक्षिणी कैलिफोर्निया की आग	Australian Forest /Bush Fire आस्ट्रेलिया के जंगलो की आग	London Fire लन्दन फायर	C
24	चित्र मे दर्शाई घटनायें को पहचाने। Identify the Event shown in the picture?		Children Festival चिल्ड्रेन फेस्टिवल	Beej Ganesha बीज गणेश	Clay Festival क्ले फेस्टिवल	None of the Above इनमे से कोई नहीं	B
25	चित्र मे दर्शाई घटनायें को पहचाने। Identify the Event shown in the picture?		Bhopal Gas Tragedy भोपाल गैस त्रासदी	Chernobyl Disaster चेर्नोबिल आपदा	Beirut Explosion बेरुत विस्फोट	Vizag Gas Tragedy विशाखापत्तनम गैस त्रासदी	B

Seq	Question	Picture	Option A	Option B	Option C	Option D	Ans
26	चित्र मे दर्शाई घटनायें को पहचाने। Identify the Event shown in the picture?		Jungle Bachao Andolan जंगल बचाओ आन्दोलन	Beej Bachao Andolan बीज बचाओ आन्दोलन	Chipko-Movement चिपको आन्दोलन	Narmada Bachao Andolan नर्मदा बचाओ आन्दोलन	C
27	चित्र मे दर्शाई घटनायें को पहचाने। Identify the Event shown in the picture?		Wasp Attack वास्प हमला	Honey Bee Attack मधुमक्खियों का हमला	House flies Swarming घरेलू मक्खियों का झुण्ड	Locusts Swarming टिड्डी का झुण्ड	D
28	चित्र मे दर्शाई घटनायें को पहचाने। Identify the Event shown in the picture?		Bhopal Gas Tragedy भोपाल गैस त्रासदी	VIZAG Gas Leak विशाखापत्तनम गैस रिसाव	9/11 Blasts 9/11 विस्फोट	Chernobyl Disaster चेर्नोबिल आपदा	B

Seq	Question	Picture	Option A	Option B	Option C	Option D	Ans
29	Identify the LOGO यह प्रतीक चिन्ह (लोगो) किस संस्था का है?		Archaeological Survey of India आर्कियोलोजिकल सर्वे ऑफ़ इंडिया	National Botanical Research Institute नेशनल बोटानिकल रिसर्च इंस्टीट्यूट	Botanical Survey of India बोटैनिकल सर्वे ऑफ़ इंडिया	Zoological Survey of India ज़ूलोजिकल सर्वे ऑफ़ इंडिया	C
30	Identify the LOGO यह प्रतीक चिन्ह (लोगो) किस संस्था का है?		Biodiversity International बायोडाइवर्सिटी इंटरनेशनल	Convention on Biological Diversity कन्वेन्शनऑन बायोलॉजिकल डाइवर्सिटी	United Nations Framework Convention on Climate Change यूनाइटेड नेशन्स फ्रेमवर्क ऑन क्लाइमेट चेंज	Food and Agriculture Organization फूड एंड एग्रिकल्चर ऑर्गनाइज़ेशन	B
31	Identify the LOGO यह प्रतीक चिन्ह (लोगो) किस संस्था का है?		National Tiger Conservation Authority नेशनल टाइगर कंजर्वेशन अथॉरिटी	Indian Institute of Forest Management इंडियन इंस्टीट्यूट ऑफ़ फॉरेस्ट मैनेजमेंट	Madhya Pradesh Tiger Foundation Society मध्यप्रदेश टाइगर फ़ाउंडेशन सोसाइटी	Forest Research Institute फॉरेस्ट रिसर्च इंस्टीट्यूट	C

Seq	Question	Picture	Option A	Option B	Option C	Option D	Ans
32	Identify the LOGO यह प्रतीक चिन्ह (लोगो) किस संस्था का है?		Ministry of Biodiversity Conservation जैव विविधता संरक्षण मंत्रालय	Ministry of Environment and Forests पर्यावरण एवं वन मंत्रालय	Ministry of Agriculture कृषि मंत्रालय	Ministry of Environment, Forest and Climate Change पर्यावरण, वन एवं जलवायु परिवर्तन मंत्रालय	D
33	Identify the LOGO यह प्रतीक चिन्ह (लोगो) किस संस्था का है?		Central Institute of Medicinal and Aromatic Plants केंद्रीय औषधीय एवं सगंध पौधा संस्थान	National Biodiversity Authority राष्ट्रीय जैवविविधता प्राधिकरण	Protection of Plant Variety and Farmers Right Act पादप किस्म एवं कृषक अधिकार संरक्षण प्राधिकरण	National Botanical Research Institute राष्ट्रीय वानस्पतिक अनुसंधान संस्थान	B
34	Identify the LOGO यह प्रतीक चिन्ह (लोगो) किस संस्था का है?		UNEP यूएनईपी	UN यूएन	UNESCO यूनेस्को	UNICEF यूनीसेफ	B

Seq	Question	Picture	Option A	Option B	Option C	Option D	Ans
35	इन में से भिन्न को पहचानिये Choose the odd one out		1	2	3	4	D
36	इन में से भिन्न को पहचानिये Choose the odd one out		1	2	3	4	D
37	इन में से भिन्न को पहचानिये Choose the odd one out		1	2	3	4	A
38	इन में से भिन्न को पहचानिये Choose the odd one out		1	2	3	4	A
39	इन में से भिन्न को पहचानिये Choose the odd one out		1	2	3	4	D

Seq	Question	Picture	Option A	Option B	Option C	Option D	Ans
40	इन में से भिन्न को पहचानिये Choose the odd one out		1	2	3	4	C
41	मध्य प्रदेश का पहला बायोस्फीयर रिजर्व कहाँ है? Where is the first biosphere reserve of Madhya Pradesh?		Panchmari Biosphere Reserve पचमढी बायोस्फीयर रिजर्व	Achanakmar-Amarkantak Biosphere Reserve अचानकमार - अमरकंटक बायोस्फीयर रिजर्व	Panna Biosphere Reserve पन्ना बायोस्फीयर रिजर्व	None of these इनमे से कोई नहीं	A
42	मध्यप्रदेश में पौधों के जीवाश्म राष्ट्रीय उद्यान किस जिले में है? In which district is the Plant Fossil National Park in Madhya Pradesh?		Indore इंदौर	Dhar धार	Katni कटनी	Mandla मंडला	D
43	बनास नदी किस नदी की सहायक नदी है? Banas river is a tributary of which river?		Ganga गंगा	Chambal चंबल	Mahanadi महानदी	Son सोन	B
44	नर्मदा नदी को रामायण में क्या कहा गया है? What is the Narmada River called in the Ramayana?		Charmawati चरमावती	Swarn Rekha स्वर्ण रेखा	Rewa रेवा	None of these इनमे से कोई नहीं	C

Seq	Question	Picture	Option A	Option B	Option C	Option D	Ans
45	बोरर कीट से किस पेड़ को नुकसान होता है? Which tree is damaged by borer moth?		Teak सागौन	Amla आंवला	Sal साल	Achar अचार	C
46	कत्था उद्योग में किस लकड़ी का उपयोग होता है? What wood is used in cattha industry?		Teak सागौन	Semal सेमल	Khair खैर	Babool बबूल	C
47	रेलवे स्लीपर में किस की लकड़ी का प्रयोग किया जाता था? Which wood is used in railway sleepers?		Tendu तेंदू	Sal साल	Mahua महुआ	Dhawa धवा	B
48	दो नदियों के बीच की उपजाऊ भूमि को क्या कहा जाता है? What is the fertile land between two rivers called?		Water Separator जल विभाजक	Lowland तराई	Doab दोआब	None of these इनमें से कोई नहीं	C
49	अर्थ आँवर किसके द्वारा आयोजित किया जाता है? Earth Hour is organized by		UNESCO यूनेस्को	WWF डब्ल्यू. डब्ल्यू.एफ	United Nations संयुक्त राष्ट्र	IUCN आई.यू.सी.एन	B
50	बिली अर्जन सिंह का नाम किस राष्ट्रीय उद्यान से संबंधित है? Billy Arjan Singh is associated with which national park?		Jim Corbett National Park जिम कॉर्बेट राष्ट्रीय उद्यान	Dudhwa National Park दुधवा राष्ट्रीय उद्यान	Kaziranga National Park काजीरंगा राष्ट्रीय उद्यान	Manas National Park मानस राष्ट्रीय उद्यान	B